

... BENDE KİMDE? (Çarpma)

Her kutu, kendinde olan cevabı üstte aradığı cevabı altta gösteriyor. Oyun baştaki soru ile başlıyor. O sorunun cevabı kimde ise onun aradığı cevaptan devam ederek sona ulaşılır. Sona kalan kutunun aradığı cevabı noktalı yere yazmalıyız.

10 x 5 kimde?


24	
5 x 4 kimde?	

35	
3 x 3 kimde?	

20	
5 x 3 kimde?	


18	
6 x 4 kimde?	


9	
5 x 2 kimde?	

12	
9 x 2 kimde?	


50	
7 x 1 kimde?	

36	
8 x 4 kimde?	

7	
9 x 4 kimde?	

32	
6 x 2 kimde?	

15	
2 x 4 kimde?	

8	
7 x 5 kimde?	

..... bende

... BENDE KİMDE? (Çarpma)

Her kutu, kendinde olan cevabı üstte aradığı cevabı altta gösteriyor. Oyun baştaki soru ile başlıyor. O sorunun cevabı kimde ise onun aradığı cevaptan devam ederek sona ulaşılır. Sona kalan kutunun aradığı cevabı noktalı yere yazmalıyız.

10 x 4 kimde?

15	
6 x 4 kimde?	

9	
10 x 5 kimde?	

12	
2 x 3 kimde?	

10	
6 x 5 kimde?	

40	
9 x 2 kimde?	

24	
4 x 2 kimde?	

45	
3 x 4 kimde?	

18	
9 x 5 kimde?	

8	
4 x 1 kimde?	

50	
5 x 3 kimde?	

6	
5 x 2 kimde?	

30	
3 x 3 kimde?	

..... bende

... BENDE KİMDE? (Çarpma)

Her kutu, kendinde olan cevabı üstte aradığı cevabı altta gösteriyor. Oyun baştaki soru ile başlıyor. O sorunun cevabı kimde ise onun aradığı cevaptan devam ederek sona ulaşılır. Sona kalan kutunun aradığı cevabı noktalı yere yazmalıyız.

10 x 5 kimde?


24	
5 x 4 kimde?	

35	
3 x 3 kimde?	

20	
5 x 3 kimde?	

18	
6 x 4 kimde?	

9	
5 x 2 kimde?	

12	
9 x 2 kimde?	


50	
7 x 1 kimde?	

36	
8 x 4 kimde?	

7	
9 x 4 kimde?	

32	
6 x 2 kimde?	

15	
2 x 4 kimde?	

8	
7 x 5 kimde?	

10 bende

... BENDE KİMDE? (Çarpma)

Her kutu, kendinde olan cevabı üstte aradığı cevabı altta gösteriyor. Oyun baştaki soru ile başlıyor. O sorunun cevabı kimde ise onun aradığı cevaptan devam ederek sona ulaşılır. Sona kalan kutunun aradığı cevabı noktalı yere yazmalıyız.

10 x 4 kimde?

15	
6 x 4 kimde?	

9	
10 x 5 kimde?	

12	
2 x 3 kimde?	

10	
6 x 5 kimde?	

40	
9 x 2 kimde?	

24	
4 x 2 kimde?	

45	
3 x 4 kimde?	

18	
9 x 5 kimde?	

8	
4 x 1 kimde?	

50	
5 x 3 kimde?	

6	
5 x 2 kimde?	

30	
3 x 3 kimde?	

4 bende