

## ... BENDE .... KİMDE? (Çarpma)

Her kutu, kendinde olan cevabı üstte aradığı cevabı altta gösteriyor. Oyun baştaki soru ile başlıyor. O sorunun cevabı kimde ise onun aradığı cevaptan devam ederek sona ulaşılır. Sona kalan kutunun aradığı cevabı noktalı yere yazmalıyız.

7 x 3 kimde?

18	
3 x 5 kimde?	

24	
5 x 2 kimde?	

4	
3 x 1 kimde?	

3	
8 x 3 kimde?	

30	
3 x 3 kimde?	

21	
4 x 4 kimde?	

16	
6 x 2 kimde?	

9	
2 x 2 kimde?	

12	
7 x 4 kimde?	

28	
6 x 3 kimde?	

15	
6 x 5 kimde?	

10	
2 x 3 kimde?	

..... bende

## ... BENDE .... KİMDE? (Çarpma)

Her kutu, kendinde olan cevabı üstte aradığı cevabı altta gösteriyor. Oyun baştaki soru ile başlıyor. O sorunun cevabı kimde ise onun aradığı cevaptan devam ederek sona ulaşılır. Sona kalan kutunun aradığı cevabı noktalı yere yazmalıyız.

9 x 2 kimde?


9	
10 x 2 kimde?	

12	
2 x 3 kimde?	

28	
4 x 2 kimde?	

15	
7 x 4 kimde?	

18	
9 x 1 kimde?	

45	
7 x 5 kimde?	

8	
9 x 5 kimde?	

30	
10 x 5 kimde?	

20	
3 x 4 kimde?	

6	
5 x 2 kimde?	

50	
5 x 3 kimde?	

10	
6 x 5 kimde?	


..... bende

## ... BENDE .... KİMDE? (Çarpma)

Her kutu, kendinde olan cevabı üstte aradığı cevabı altta gösteriyor. Oyun baştaki soru ile başlıyor. O sorunun cevabı kimde ise onun aradığı cevaptan devam ederek sona ulaşılır. Sona kalan kutunun aradığı cevabı noktalı yere yazmalıyız.

7 x 3 kimde?

18	
3 x 5 kimde?	

24	
5 x 2 kimde?	

4	
3 x 1 kimde?	


3	
8 x 3 kimde?	

30	
3 x 3 kimde?	

21	
4 x 4 kimde?	

16	
6 x 2 kimde?	

9	
2 x 2 kimde?	

12	
7 x 4 kimde?	

28	
6 x 3 kimde?	

15	
6 x 5 kimde?	

10	
2 x 3 kimde?	

6 bende

## ... BENDE .... KİMDE? (Çarpma)

Her kutu, kendinde olan cevabı üstte aradığı cevabı altta gösteriyor. Oyun baştaki soru ile başlıyor. O sorunun cevabı kimde ise onun aradığı cevaptan devam ederek sona ulaşılır. Sona kalan kutunun aradığı cevabı noktalı yere yazmalıyız.

9 x 2 kimde?


9	
10 x 2 kimde?	

12	
2 x 3 kimde?	


28	
4 x 2 kimde?	

15	
7 x 4 kimde?	

18	
9 x 1 kimde?	

45	
7 x 5 kimde?	

8	
9 x 5 kimde?	

30	
10 x 5 kimde?	

20	
3 x 4 kimde?	

6	
5 x 2 kimde?	

50	
5 x 3 kimde?	

10	
6 x 5 kimde?	

35 bende