

## ... BENDE .... KİMDE? (Çarpma)

Her kutu, kendinde olan cevabı üstte aradığı cevabı altta gösteriyor. Oyun baştaki soru ile başlıyor. O sorunun cevabı kimde ise onun aradığı cevaptan devam ederek sona ulaşılır. Sona kalan kutunun aradığı cevabı noktalı yere yazmalıyız.

5 x 2 kimde?

18	
8 x 4 kimde?	


20	
10 x 5 kimde?	

15	
4 x 2 kimde?	


10	
2 x 3 kimde?	

6	
4 x 1 kimde?	

16	
10 x 2 kimde?	

8	
10 x 4 kimde?	

40	
4 x 4 kimde?	

32	
7 x 2 kimde?	

50	
6 x 2 kimde?	

12	
9 x 2 kimde?	

4	
5 x 3 kimde?	

..... bende

## ... BENDE .... KİMDE? (Çarpma)

Her kutu, kendinde olan cevabı üstte aradığı cevabı altta gösteriyor. Oyun baştaki soru ile başlıyor. O sorunun cevabı kimde ise onun aradığı cevaptan devam ederek sona ulaşılır. Sona kalan kutunun aradığı cevabı noktalı yere yazmalıyız.

6 x 2 kimde?

15	
10 x 3 kimde?	

50	
3 x 2 kimde?	


30	
8 x 3 kimde?	

12	
8 x 1 kimde?	

16	
5 x 3 kimde?	

28	
7 x 5 kimde?	

45	
7 x 4 kimde?	

6	
9 x 5 kimde?	

35	
9 x 2 kimde?	

18	
7 x 3 kimde?	

24	
10 x 5 kimde?	

8	
4 x 4 kimde?	

..... bende

## ... BENDE .... KİMDE? (Çarpma)

Her kutu, kendinde olan cevabı üstte aradığı cevabı altta gösteriyor. Oyun baştaki soru ile başlıyor. O sorunun cevabı kimde ise onun aradığı cevaptan devam ederek sona ulaşılır. Sona kalan kutunun aradığı cevabı noktalı yere yazmalıyız.

5 x 2 kimde?

18	
8 x 4 kimde?	


20	
10 x 5 kimde?	

15	
4 x 2 kimde?	

10	
2 x 3 kimde?	

6	
4 x 1 kimde?	

16	
10 x 2 kimde?	


8	
10 x 4 kimde?	

40	
4 x 4 kimde?	

32	
7 x 2 kimde?	

50	
6 x 2 kimde?	

12	
9 x 2 kimde?	

4	
5 x 3 kimde?	

14 bende

## ... BENDE .... KİMDE? (Çarpma)

Her kutu, kendinde olan cevabı üstte aradığı cevabı altta gösteriyor. Oyun baştaki soru ile başlıyor. O sorunun cevabı kimde ise onun aradığı cevaptan devam ederek sona ulaşılır. Sona kalan kutunun aradığı cevabı noktalı yere yazmalıyız.

6 x 2 kimde?

15	
10 x 3 kimde?	

50	
3 x 2 kimde?	


30	
8 x 3 kimde?	

12	
8 x 1 kimde?	

16	
5 x 3 kimde?	

28	
7 x 5 kimde?	

45	
7 x 4 kimde?	

6	
9 x 5 kimde?	

35	
9 x 2 kimde?	

18	
7 x 3 kimde?	

24	
10 x 5 kimde?	

8	
4 x 4 kimde?	

21 bende