


... BENDE KİMDE? (Çarpma)

Her kutu, kendinde olan cevabı üstte aradığı cevabı altta gösteriyor. Oyun baştaki soru ile başlıyor. O sorunun cevabı kimde ise onun aradığı cevaptan devam ederek sona ulaşılır. Sona kalan kutunun aradığı cevabı noktalı yere yazmalıyız.

4 x 1 kimde?

27	
3 x 3 kimde?	

35	
9 x 5 kimde?	

15	
4 x 3 kimde?	

28	
7 x 5 kimde?	

10	
4 x 2 kimde?	

4	
10 x 2 kimde?	

12	
9 x 3 kimde?	

40	
2 x 5 kimde?	

45	
10 x 3 kimde?	

20	
3 x 5 kimde?	

8	
7 x 4 kimde?	

9	
8 x 5 kimde?	

..... bende

... BENDE KİMDE? (Çarpma)


Her kutu, kendinde olan cevabı üstte aradığı cevabı altta gösteriyor. Oyun baştaki soru ile başlıyor. O sorunun cevabı kimde ise onun aradığı cevaptan devam ederek sona ulaşılır. Sona kalan kutunun aradığı cevabı noktalı yere yazmalıyız.

4 x 1 kimde?

4	
3 x 4 kimde?	

20	
9 x 3 kimde?	


25	
8 x 4 kimde?	

32	
7 x 5 kimde?	

6	
3 x 3 kimde?	

28	
4 x 2 kimde?	

30	
5 x 5 kimde?	

9	
6 x 5 kimde?	

8	
6 x 4 kimde?	

27	
7 x 4 kimde?	

12	
3 x 2 kimde?	

35	
5 x 4 kimde?	

..... bende

... BENDE KİMDE? (Çarpma)


Her kutu, kendinde olan cevabı üstte aradığı cevabı altta gösteriyor. Oyun baştaki soru ile başlıyor. O sorunun cevabı kimde ise onun aradığı cevaptan devam ederek sona ulaşılır. Sona kalan kutunun aradığı cevabı noktalı yere yazmalıyız.

4 x 1 kimde?

27	
3 x 3 kimde?	

35	
9 x 5 kimde?	


15	
4 x 3 kimde?	

28	
7 x 5 kimde?	

10	
4 x 2 kimde?	

4	
10 x 2 kimde?	

12	
9 x 3 kimde?	

40	
2 x 5 kimde?	

45	
10 x 3 kimde?	

20	
3 x 5 kimde?	

8	
7 x 4 kimde?	


9	
8 x 5 kimde?	

30 bende

... BENDE KİMDE? (Çarpma)

Her kutu, kendinde olan cevabı üstte aradığı cevabı altta gösteriyor. Oyun baştaki soru ile başlıyor. O sorunun cevabı kimde ise onun aradığı cevaptan devam ederek sona ulaşılır. Sona kalan kutunun aradığı cevabı noktalı yere yazmalıyız.

4 x 1 kimde?

4	
3 x 4 kimde?	

20	
9 x 3 kimde?	


25	
8 x 4 kimde?	

32	
7 x 5 kimde?	

6	
3 x 3 kimde?	

28	
4 x 2 kimde?	

30	
5 x 5 kimde?	

9	
6 x 5 kimde?	

8	
6 x 4 kimde?	

27	
7 x 4 kimde?	

12	
3 x 2 kimde?	

35	
5 x 4 kimde?	

24 bende