

... BENDE KİMDE? (Çarpma)

Her kutu, kendinde olan cevabı üstte aradığı cevabı altta gösteriyor. Oyun baştaki soru ile başlıyor. O sorunun cevabı kimde ise onun aradığı cevaptan devam ederek sona ulaşılır. Sona kalan kutunun aradığı cevabı noktalı yere yazmalıyız.

10 x 5 kimde?

10	
8 x 4 kimde?	

50	
7 x 1 kimde?	


35	
6 x 5 kimde?	

32	
4 x 2 kimde?	

20	
2 x 5 kimde?	


24	
5 x 4 kimde?	

36	
6 x 2 kimde?	

8	
7 x 5 kimde?	

12	
9 x 2 kimde?	

18	
6 x 4 kimde?	

7	
9 x 4 kimde?	

30	
3 x 3 kimde?	

..... bende

... BENDE KİMDE? (Çarpma)

Her kutu, kendinde olan cevabı üstte aradığı cevabı altta gösteriyor. Oyun baştaki soru ile başlıyor. O sorunun cevabı kimde ise onun aradığı cevaptan devam ederek sona ulaşılır. Sona kalan kutunun aradığı cevabı noktalı yere yazmalıyız.

4 x 2 kimde?

20	
3 x 5 kimde?	

8	
7 x 5 kimde?	

16	
8 x 4 kimde?	

35	
4 x 3 kimde?	

12	
4 x 1 kimde?	

40	
4 x 5 kimde?	

50	
8 x 5 kimde?	

32	
10 x 5 kimde?	

9	
3 x 2 kimde?	

4	
6 x 5 kimde?	

6	
8 x 2 kimde?	

30	
3 x 3 kimde?	

..... bende

... BENDE KİMDE? (Çarpma)

Her kutu, kendinde olan cevabı üstte aradığı cevabı altta gösteriyor. Oyun baştaki soru ile başlıyor. O sorunun cevabı kimde ise onun aradığı cevaptan devam ederek sona ulaşılır. Sona kalan kutunun aradığı cevabı noktalı yere yazmalıyız.


10 x 5 kimde?

10	
8 x 4 kimde?	

50	
7 x 1 kimde?	


35	
6 x 5 kimde?	

32	
4 x 2 kimde?	

20	
2 x 5 kimde?	


24	
5 x 4 kimde?	

36	
6 x 2 kimde?	

8	
7 x 5 kimde?	

12	
9 x 2 kimde?	

18	
6 x 4 kimde?	

7	
9 x 4 kimde?	

30	
3 x 3 kimde?	

9 bende

... BENDE KİMDE? (Çarpma)

Her kutu, kendinde olan cevabı üstte aradığı cevabı altta gösteriyor. Oyun baştaki soru ile başlıyor. O sorunun cevabı kimde ise onun aradığı cevaptan devam ederek sona ulaşılır. Sona kalan kutunun aradığı cevabı noktalı yere yazmalıyız.

4 x 2 kimde?

20	
3 x 5 kimde?	

8	
7 x 5 kimde?	

16	
8 x 4 kimde?	

35	
4 x 3 kimde?	

12	
4 x 1 kimde?	

40	
4 x 5 kimde?	

50	
8 x 5 kimde?	

32	
10 x 5 kimde?	

9	
3 x 2 kimde?	

4	
6 x 5 kimde?	

6	
8 x 2 kimde?	

30	
3 x 3 kimde?	

15 bende