


## ... BENDE .... KİMDE? (Çarpma)

Her kutu, kendinde olan cevabı üstte aradığı cevabı altta gösteriyor. Oyun baştaki soru ile başlıyor. O sorunun cevabı kimde ise onun aradığı cevaptan devam ederek sona ulaşılır. Sona kalan kutunun aradığı cevabı noktalı yere yazmalıyız.

3 x 1 kimde?

24	
7 x 4 kimde?	

40	
4 x 2 kimde?	


10	
3 x 2 kimde?	

35	
8 x 5 kimde?	

8	
6 x 4 kimde?	

20	
2 x 5 kimde?	

28	
6 x 3 kimde?	

3	
10 x 2 kimde?	

30	
3 x 4 kimde?	

6	
9 x 3 kimde?	

27	
7 x 5 kimde?	

18	
6 x 5 kimde?	

..... bende

## ... BENDE .... KİMDE? (Çarpma)

Her kutu, kendinde olan cevabı üstte aradığı cevabı altta gösteriyor. Oyun baştaki soru ile başlıyor. O sorunun cevabı kimde ise onun aradığı cevaptan devam ederek sona ulaşılır. Sona kalan kutunun aradığı cevabı noktalı yere yazmalıyız.

10 x 3 kimde?

18	
7 x 5 kimde?	

12	
6 x 3 kimde?	

16	
3 x 4 kimde?	

30	
10 x 1 kimde?	

40	
7 x 2 kimde?	


20	
3 x 3 kimde?	

35	
5 x 4 kimde?	

15	
4 x 2 kimde?	

14	
5 x 3 kimde?	

10	
2 x 2 kimde?	

4	
4 x 4 kimde?	

9	
8 x 5 kimde?	

..... bende

## ... BENDE .... KİMDE? (Çarpma)

Her kutu, kendinde olan cevabı üstte aradığı cevabı altta gösteriyor. Oyun baştaki soru ile başlıyor. O sorunun cevabı kimde ise onun aradığı cevaptan devam ederek sona ulaşılır. Sona kalan kutunun aradığı cevabı noktalı yere yazmalıyız.

3 x 1 kimde?

24	
7 x 4 kimde?	

40	
4 x 2 kimde?	

10	
3 x 2 kimde?	

35	
8 x 5 kimde?	

8	
6 x 4 kimde?	

20	
2 x 5 kimde?	

28	
6 x 3 kimde?	

3	
10 x 2 kimde?	

30	
3 x 4 kimde?	

6	
9 x 3 kimde?	

27	
7 x 5 kimde?	

18	
6 x 5 kimde?	

12 bende

## ... BENDE .... KİMDE? (Çarpma)

Her kutu, kendinde olan cevabı üstte aradığı cevabı altta gösteriyor. Oyun baştaki soru ile başlıyor. O sorunun cevabı kimde ise onun aradığı cevaptan devam ederek sona ulaşılır. Sona kalan kutunun aradığı cevabı noktalı yere yazmalıyız.

10 x 3 kimde?

18	
7 x 5 kimde?	

12	
6 x 3 kimde?	

16	
3 x 4 kimde?	

30	
10 x 1 kimde?	

40	
7 x 2 kimde?	

20	
3 x 3 kimde?	

35	
5 x 4 kimde?	

15	
4 x 2 kimde?	

14	
5 x 3 kimde?	

10	
2 x 2 kimde?	

4	
4 x 4 kimde?	

9	
8 x 5 kimde?	

8 bende