

## ... BENDE .... KİMDE? (Çarpma)


Her kutu, kendinde olan cevabı üstte aradığı cevabı altta gösteriyor. Oyun baştaki soru ile başlıyor. O sorunun cevabı kimde ise onun aradığı cevaptan devam ederek sona ulaşılır. Sona kalan kutunun aradığı cevabı noktalı yere yazmalıyız.

3 x 1 kimde?

18	
2 x 5 kimde?	

10	
3 x 2 kimde?	


20	
8 x 5 kimde?	

40	
8 x 2 kimde?	

24	
10 x 3 kimde?	

16	
7 x 3 kimde?	

28	
4 x 5 kimde?	

30	
7 x 5 kimde?	

50	
8 x 3 kimde?	

6	
10 x 5 kimde?	

3	
9 x 2 kimde?	

35	
7 x 4 kimde?	

..... bende

## ... BENDE .... KİMDE? (Çarpma)

Her kutu, kendinde olan cevabı üstte aradığı cevabı altta gösteriyor. Oyun baştaki soru ile başlıyor. O sorunun cevabı kimde ise onun aradığı cevaptan devam ederek sona ulaşılır. Sona kalan kutunun aradığı cevabı noktalı yere yazmalıyız.

4 x 3 kimde?


15	
7 x 4 kimde?	

6	
8 x 2 kimde?	

50	
8 x 5 kimde?	

12	
4 x 1 kimde?	

4	
6 x 5 kimde?	

20	
3 x 5 kimde?	

8	
4 x 5 kimde?	

40	
2 x 4 kimde?	

16	
8 x 4 kimde?	

30	
3 x 3 kimde?	

32	
10 x 5 kimde?	

9	
3 x 2 kimde?	

..... bende

## ... BENDE .... KİMDE? (Çarpma)


Her kutu, kendinde olan cevabı üstte aradığı cevabı altta gösteriyor. Oyun baştaki soru ile başlıyor. O sorunun cevabı kimde ise onun aradığı cevaptan devam ederek sona ulaşılır. Sona kalan kutunun aradığı cevabı noktalı yere yazmalıyız.

3 x 1 kimde?

18	
2 x 5 kimde?	

10	
3 x 2 kimde?	


20	
8 x 5 kimde?	

40	
8 x 2 kimde?	

24	
10 x 3 kimde?	

16	
7 x 3 kimde?	

28	
4 x 5 kimde?	

30	
7 x 5 kimde?	

50	
8 x 3 kimde?	

6	
10 x 5 kimde?	

3	
9 x 2 kimde?	

35	
7 x 4 kimde?	

21 bende

## ... BENDE .... KİMDE? (Çarpma)

Her kutu, kendinde olan cevabı üstte aradığı cevabı altta gösteriyor. Oyun baştaki soru ile başlıyor. O sorunun cevabı kimde ise onun aradığı cevaptan devam ederek sona ulaşılır. Sona kalan kutunun aradığı cevabı noktalı yere yazmalıyız.

4 x 3 kimde?


15	
7 x 4 kimde?	

6	
8 x 2 kimde?	

50	
8 x 5 kimde?	

12	
4 x 1 kimde?	

4	
6 x 5 kimde?	

20	
3 x 5 kimde?	

8	
4 x 5 kimde?	

40	
2 x 4 kimde?	

16	
8 x 4 kimde?	

30	
3 x 3 kimde?	

32	
10 x 5 kimde?	

9	
3 x 2 kimde?	

28 bende