


## ... BENDE .... KİMDE? (Çarpma)

Her kutu, kendinde olan cevabı üstte aradığı cevabı altta gösteriyor. Oyun baştaki soru ile başlıyor. O sorunun cevabı kimde ise onun aradığı cevaptan devam ederek sona ulaşılır. Sona kalan kutunun aradığı cevabı noktalı yere yazmalıyız.

4 x 1 kimde?

28	
7 x 5 kimde?	

4	
10 x 2 kimde?	

10	
7 x 4 kimde?	

35	
10 x 3 kimde?	

6	
5 x 3 kimde?	

9	
9 x 5 kimde?	

45	
2 x 5 kimde?	

20	
4 x 3 kimde?	

30	
9 x 4 kimde?	

40	
3 x 3 kimde?	

12	
10 x 4 kimde?	

36	
3 x 2 kimde?	


..... bende

## ... BENDE .... KİMDE? (Çarpma)

Her kutu, kendinde olan cevabı üstte aradığı cevabı altta gösteriyor. Oyun baştaki soru ile başlıyor. O sorunun cevabı kimde ise onun aradığı cevaptan devam ederek sona ulaşılır. Sona kalan kutunun aradığı cevabı noktalı yere yazmalıyız.

9 x 4 kimde?

36	
9 x 2 kimde?	

27	
5 x 4 kimde?	


30	
9 x 3 kimde?	

24	
7 x 4 kimde?	

8	
2 x 2 kimde?	

10	
6 x 4 kimde?	

18	
3 x 4 kimde?	

4	
6 x 5 kimde?	

12	
8 x 2 kimde?	

28	
8 x 1 kimde?	

45	
2 x 5 kimde?	

16	
9 x 5 kimde?	

..... bende

## ... BENDE .... KİMDE? (Çarpma)

Her kutu, kendinde olan cevabı üstte aradığı cevabı altta gösteriyor. Oyun baştaki soru ile başlıyor. O sorunun cevabı kimde ise onun aradığı cevaptan devam ederek sona ulaşılır. Sona kalan kutunun aradığı cevabı noktalı yere yazmalıyız.

4 x 1 kimde?

28	
7 x 5 kimde?	

4	
10 x 2 kimde?	

10	
7 x 4 kimde?	

35	
10 x 3 kimde?	

6	
5 x 3 kimde?	

9	
9 x 5 kimde?	

45	
2 x 5 kimde?	

20	
4 x 3 kimde?	

30	
9 x 4 kimde?	

40	
3 x 3 kimde?	

12	
10 x 4 kimde?	

36	
3 x 2 kimde?	


15 bende

## ... BENDE .... KİMDE? (Çarpma)

Her kutu, kendinde olan cevabı üstte aradığı cevabı altta gösteriyor. Oyun baştaki soru ile başlıyor. O sorunun cevabı kimde ise onun aradığı cevaptan devam ederek sona ulaşılır. Sona kalan kutunun aradığı cevabı noktalı yere yazmalıyız.

9 x 4 kimde?

36	
9 x 2 kimde?	

27	
5 x 4 kimde?	

30	
9 x 3 kimde?	


24	
7 x 4 kimde?	

8	
2 x 2 kimde?	

10	
6 x 4 kimde?	

18	
3 x 4 kimde?	

4	
6 x 5 kimde?	

12	
8 x 2 kimde?	

28	
8 x 1 kimde?	

45	
2 x 5 kimde?	

16	
9 x 5 kimde?	

20 bende