

... BENDE KİMDE? (Çarpma)

Her kutu, kendinde olan cevabı üstte aradığı cevabı altta gösteriyor. Oyun baştaki soru ile başlıyor. O sorunun cevabı kimde ise onun aradığı cevaptan devam ederek sona ulaşılır. Sona kalan kutunun aradığı cevabı noktalı yere yazmalıyız.

10 x 5 kimde?

50	
7 x 5 kimde?	

8	
6 x 5 kimde?	

15	
10 x 4 kimde?	


12	
5 x 4 kimde?	

30	
6 x 4 kimde?	

36	
10 x 1 kimde?	

20	
5 x 3 kimde?	

10	
8 x 4 kimde?	

32	
6 x 2 kimde?	

24	
3 x 3 kimde?	

35	
9 x 4 kimde?	

40	
4 x 2 kimde?	

..... bende

... BENDE KİMDE? (Çarpma)

Her kutu, kendinde olan cevabı üstte aradığı cevabı altta gösteriyor. Oyun baştaki soru ile başlıyor. O sorunun cevabı kimde ise onun aradığı cevaptan devam ederek sona ulaşılır. Sona kalan kutunun aradığı cevabı noktalı yere yazmalıyız.

5 x 2 kimde?

36	
10 x 2 kimde?	

15	
7 x 3 kimde?	

2	
9 x 5 kimde?	

10	
5 x 5 kimde?	

45	
7 x 5 kimde?	

20	
8 x 4 kimde?	

32	
4 x 3 kimde?	

16	
5 x 3 kimde?	

35	
3 x 2 kimde?	

21	
2 x 1 kimde?	

25	
8 x 2 kimde?	

6	
9 x 4 kimde?	


..... bende

... BENDE KİMDE? (Çarpma)

Her kutu, kendinde olan cevabı üstte aradığı cevabı altta gösteriyor. Oyun baştaki soru ile başlıyor. O sorunun cevabı kimde ise onun aradığı cevaptan devam ederek sona ulaşılır. Sona kalan kutunun aradığı cevabı noktalı yere yazmalıyız.

10 x 5 kimde?

50	
7 x 5 kimde?	

8	
6 x 5 kimde?	

15	
10 x 4 kimde?	


12	
5 x 4 kimde?	

30	
6 x 4 kimde?	

36	
10 x 1 kimde?	

20	
5 x 3 kimde?	

10	
8 x 4 kimde?	

32	
6 x 2 kimde?	

24	
3 x 3 kimde?	

35	
9 x 4 kimde?	

40	
4 x 2 kimde?	

9 bende

... BENDE KİMDE? (Çarpma)

Her kutu, kendinde olan cevabı üstte aradığı cevabı altta gösteriyor. Oyun baştaki soru ile başlıyor. O sorunun cevabı kimde ise onun aradığı cevaptan devam ederek sona ulaşılır. Sona kalan kutunun aradığı cevabı noktalı yere yazmalıyız.

5 x 2 kimde?

36	
10 x 2 kimde?	

15	
7 x 3 kimde?	

2	
9 x 5 kimde?	

10	
5 x 5 kimde?	

45	
7 x 5 kimde?	

20	
8 x 4 kimde?	

32	
4 x 3 kimde?	

16	
5 x 3 kimde?	

35	
3 x 2 kimde?	

21	
2 x 1 kimde?	

25	
8 x 2 kimde?	

6	
9 x 4 kimde?	

12 bende