

... BENDE KİMDE? (Çarpma)

Her kutu, kendinde olan cevabı üstte aradığı cevabı altta gösteriyor. Oyun baştaki soru ile başlıyor. O sorunun cevabı kimde ise onun aradığı cevaptan devam ederek sona ulaşılır. Sona kalan kutunun aradığı cevabı noktalı yere yazmalıyız.

6 x 3 kimde?

18	
3 x 4 kimde?	

20	
2 x 1 kimde?	


12	
5 x 2 kimde?	

10	
6 x 4 kimde?	

25	
2 x 2 kimde?	

21	
9 x 5 kimde?	

2	
7 x 2 kimde?	

24	
3 x 5 kimde?	

8	
7 x 3 kimde?	

14	
4 x 2 kimde?	

4	
10 x 2 kimde?	

15	
5 x 5 kimde?	

..... bende

... BENDE KİMDE? (Çarpma)

Her kutu, kendinde olan cevabı üstte aradığı cevabı altta gösteriyor. Oyun baştaki soru ile başlıyor. O sorunun cevabı kimde ise onun aradığı cevaptan devam ederek sona ulaşılır. Sona kalan kutunun aradığı cevabı noktalı yere yazmalıyız.


6 x 1 kimde?

9	
7 x 4 kimde?	

28	
2 x 4 kimde?	

20	
6 x 5 kimde?	

32	
3 x 3 kimde?	

6	
4 x 4 kimde?	

30	
9 x 4 kimde?	

12	
5 x 4 kimde?	

16	
4 x 3 kimde?	

45	
5 x 2 kimde?	

40	
8 x 4 kimde?	

10	
10 x 4 kimde?	

36	
9 x 5 kimde?	

..... bende

... BENDE KİMDE? (Çarpma)

Her kutu, kendinde olan cevabı üstte aradığı cevabı altta gösteriyor. Oyun baştaki soru ile başlıyor. O sorunun cevabı kimde ise onun aradığı cevaptan devam ederek sona ulaşılır. Sona kalan kutunun aradığı cevabı noktalı yere yazmalıyız.

6 x 3 kimde?

18	
3 x 4 kimde?	

20	
2 x 1 kimde?	

12	
5 x 2 kimde?	

10	
6 x 4 kimde?	

25	
2 x 2 kimde?	

21	
9 x 5 kimde?	

2	
7 x 2 kimde?	

24	
3 x 5 kimde?	

8	
7 x 3 kimde?	

14	
4 x 2 kimde?	

4	
10 x 2 kimde?	

15	
5 x 5 kimde?	

45 bende

... BENDE KİMDE? (Çarpma)


Her kutu, kendinde olan cevabı üstte aradığı cevabı altta gösteriyor. Oyun baştaki soru ile başlıyor. O sorunun cevabı kimde ise onun aradığı cevaptan devam ederek sona ulaşılır. Sona kalan kutunun aradığı cevabı noktalı yere yazmalıyız.

6 x 1 kimde?

9	
7 x 4 kimde?	

28	
2 x 4 kimde?	

20	
6 x 5 kimde?	

32	
3 x 3 kimde?	

6	
4 x 4 kimde?	

30	
9 x 4 kimde?	

12	
5 x 4 kimde?	

16	
4 x 3 kimde?	

45	
5 x 2 kimde?	

40	
8 x 4 kimde?	

10	
10 x 4 kimde?	

36	
9 x 5 kimde?	

8 bende