

... BENDE KİMDE? (Çarpma)

Her kutu, kendinde olan cevabı üstte aradığı cevabı altta gösteriyor. Oyun baştaki soru ile başlıyor. O sorunun cevabı kimde ise onun aradığı cevaptan devam ederek sona ulaşılır. Sona kalan kutunun aradığı cevabı noktalı yere yazmalıyız.

9 x 4 kimde?

15	
10 x 4 kimde?	

9	
8 x 4 kimde?	

40	
7 x 3 kimde?	

32	
5 x 4 kimde?	

24	
9 x 1 kimde?	

45	
3 x 2 kimde?	

30	
8 x 3 kimde?	

20	
4 x 4 kimde?	

16	
5 x 3 kimde?	

36	
6 x 5 kimde?	

6	
10 x 5 kimde?	

21	
9 x 5 kimde?	

..... bende

... BENDE KİMDE? (Çarpma)

Her kutu, kendinde olan cevabı üstte aradığı cevabı altta gösteriyor. Oyun baştaki soru ile başlıyor. O sorunun cevabı kimde ise onun aradığı cevaptan devam ederek sona ulaşılır. Sona kalan kutunun aradığı cevabı noktalı yere yazmalıyız.

8 x 3 kimde?

8	
8 x 2 kimde?	

32	
10 x 4 kimde?	


16	
8 x 4 kimde?	

15	
6 x 3 kimde?	

6	
3 x 3 kimde?	

24	
8 x 1 kimde?	

40	
5 x 3 kimde?	

9	
5 x 5 kimde?	

18	
3 x 2 kimde?	

25	
7 x 4 kimde?	

30	
10 x 2 kimde?	

28	
10 x 3 kimde?	

..... bende

... BENDE KİMDE? (Çarpma)

Her kutu, kendinde olan cevabı üstte aradığı cevabı altta gösteriyor. Oyun baştaki soru ile başlıyor. O sorunun cevabı kimde ise onun aradığı cevaptan devam ederek sona ulaşılır. Sona kalan kutunun aradığı cevabı noktalı yere yazmalıyız.

9 x 4 kimde?


15	
10 x 4 kimde?	

9	
8 x 4 kimde?	

40	
7 x 3 kimde?	

32	
5 x 4 kimde?	

24	
9 x 1 kimde?	

45	
3 x 2 kimde?	

30	
8 x 3 kimde?	

20	
4 x 4 kimde?	

16	
5 x 3 kimde?	

36	
6 x 5 kimde?	

6	
10 x 5 kimde?	

21	
9 x 5 kimde?	

50 bende

... BENDE KİMDE? (Çarpma)

Her kutu, kendinde olan cevabı üstte aradığı cevabı altta gösteriyor. Oyun baştaki soru ile başlıyor. O sorunun cevabı kimde ise onun aradığı cevaptan devam ederek sona ulaşılır. Sona kalan kutunun aradığı cevabı noktalı yere yazmalıyız.

8 x 3 kimde?

8	
8 x 2 kimde?	

32	
10 x 4 kimde?	


16	
8 x 4 kimde?	

15	
6 x 3 kimde?	

6	
3 x 3 kimde?	

24	
8 x 1 kimde?	

40	
5 x 3 kimde?	

9	
5 x 5 kimde?	

18	
3 x 2 kimde?	

25	
7 x 4 kimde?	

30	
10 x 2 kimde?	

28	
10 x 3 kimde?	

20 bende