

... BENDE KİMDE? (Çarpma)

Her kutu, kendinde olan cevabı üstte aradığı cevabı altta gösteriyor. Oyun baştaki soru ile başlıyor. O sorunun cevabı kimde ise onun aradığı cevaptan devam ederek sona ulaşılır. Sona kalan kutunun aradığı cevabı noktalı yere yazmalıyız.

4 x 1 kimde?

15	
4 x 3 kimde?	

10	
4 x 2 kimde?	


40	
2 x 5 kimde?	

4	
10 x 2 kimde?	

20	
3 x 5 kimde?	

28	
7 x 5 kimde?	

35	
10 x 3 kimde?	

27	
3 x 3 kimde?	

30	
3 x 2 kimde?	

8	
7 x 4 kimde?	

9	
8 x 5 kimde?	


12	
9 x 3 kimde?	

..... bende

... BENDE KİMDE? (Çarpma)

Her kutu, kendinde olan cevabı üstte aradığı cevabı altta gösteriyor. Oyun baştaki soru ile başlıyor. O sorunun cevabı kimde ise onun aradığı cevaptan devam ederek sona ulaşılır. Sona kalan kutunun aradığı cevabı noktalı yere yazmalıyız.

6 x 4 kimde?

24	
6 x 2 kimde?	

4	
7 x 5 kimde?	

50	
4 x 1 kimde?	

32	
10 x 5 kimde?	

6	
8 x 4 kimde?	

40	
9 x 5 kimde?	

15	
8 x 5 kimde?	

18	
5 x 4 kimde?	

35	
4 x 4 kimde?	

16	
3 x 5 kimde?	

20	
2 x 3 kimde?	

12	
9 x 2 kimde?	

..... bende

... BENDE KİMDE? (Çarpma)

Her kutu, kendinde olan cevabı üstte aradığı cevabı altta gösteriyor. Oyun baştaki soru ile başlıyor. O sorunun cevabı kimde ise onun aradığı cevaptan devam ederek sona ulaşılır. Sona kalan kutunun aradığı cevabı noktalı yere yazmalıyız.

4 x 1 kimde?

15	
4 x 3 kimde?	

10	
4 x 2 kimde?	


40	
2 x 5 kimde?	

4	
10 x 2 kimde?	

20	
3 x 5 kimde?	

28	
7 x 5 kimde?	

35	
10 x 3 kimde?	

27	
3 x 3 kimde?	

30	
3 x 2 kimde?	

8	
7 x 4 kimde?	

9	
8 x 5 kimde?	


12	
9 x 3 kimde?	

6 bende

... BENDE KİMDE? (Çarpma)

Her kutu, kendinde olan cevabı üstte aradığı cevabı altta gösteriyor. Oyun baştaki soru ile başlıyor. O sorunun cevabı kimde ise onun aradığı cevaptan devam ederek sona ulaşılır. Sona kalan kutunun aradığı cevabı noktalı yere yazmalıyız.

6 x 4 kimde?


24	
6 x 2 kimde?	

4	
7 x 5 kimde?	

50	
4 x 1 kimde?	

32	
10 x 5 kimde?	

6	
8 x 4 kimde?	

40	
9 x 5 kimde?	

15	
8 x 5 kimde?	

18	
5 x 4 kimde?	

35	
4 x 4 kimde?	

16	
3 x 5 kimde?	

20	
2 x 3 kimde?	

12	
9 x 2 kimde?	

45 bende