

... BENDE KİMDE? (Çarpma)

Her kutu, kendinde olan cevabı üstte aradığı cevabı altta gösteriyor. Oyun baştaki soru ile başlıyor. O sorunun cevabı kimde ise onun aradığı cevaptan devam ederek sona ulaşılır. Sona kalan kutunun aradığı cevabı noktalı yere yazmalıyız.

2 x 5 kimde?

30	
7 x 4 kimde?	

10	
8 x 1 kimde?	

4	
10 x 5 kimde?	

28	
3 x 5 kimde?	

35	
6 x 5 kimde?	

8	
10 x 4 kimde?	

50	
7 x 3 kimde?	

15	
9 x 4 kimde?	

21	
10 x 2 kimde?	

20	
7 x 5 kimde?	

40	
2 x 2 kimde?	

36	
8 x 2 kimde?	

..... bende

... BENDE KİMDE? (Çarpma)

Her kutu, kendinde olan cevabı üstte aradığı cevabı altta gösteriyor. Oyun baştaki soru ile başlıyor. O sorunun cevabı kimde ise onun aradığı cevaptan devam ederek sona ulaşılır. Sona kalan kutunun aradığı cevabı noktalı yere yazmalıyız.

2 x 1 kimde?

14	
10 x 5 kimde?	

50	
6 x 5 kimde?	

2	
5 x 3 kimde?	

20	
10 x 4 kimde?	

18	
8 x 3 kimde?	

40	
4 x 4 kimde?	

30	
5 x 2 kimde?	

24	
2 x 2 kimde?	

10	
9 x 2 kimde?	

15	
10 x 2 kimde?	

16	
7 x 2 kimde?	

4	
2 x 4 kimde?	

..... bende


... BENDE KİMDE? (Çarpma)

Her kutu, kendinde olan cevabı üstte aradığı cevabı altta gösteriyor. Oyun baştaki soru ile başlıyor. O sorunun cevabı kimde ise onun aradığı cevaptan devam ederek sona ulaşılır. Sona kalan kutunun aradığı cevabı noktalı yere yazmalıyız.

2 x 5 kimde?

30	
7 x 4 kimde?	

10	
8 x 1 kimde?	

4	
10 x 5 kimde?	

28	
3 x 5 kimde?	

35	
6 x 5 kimde?	

8	
10 x 4 kimde?	

50	
7 x 3 kimde?	

15	
9 x 4 kimde?	

21	
10 x 2 kimde?	

20	
7 x 5 kimde?	

40	
2 x 2 kimde?	

36	
8 x 2 kimde?	

16 bende

... BENDE KİMDE? (Çarpma)


Her kutu, kendinde olan cevabı üstte aradığı cevabı altta gösteriyor. Oyun baştaki soru ile başlıyor. O sorunun cevabı kimde ise onun aradığı cevaptan devam ederek sona ulaşılır. Sona kalan kutunun aradığı cevabı noktalı yere yazmalıyız.

2 x 1 kimde?

14	
10 x 5 kimde?	

50	
6 x 5 kimde?	


2	
5 x 3 kimde?	

20	
10 x 4 kimde?	

18	
8 x 3 kimde?	

40	
4 x 4 kimde?	

30	
5 x 2 kimde?	

24	
2 x 2 kimde?	

10	
9 x 2 kimde?	

15	
10 x 2 kimde?	

16	
7 x 2 kimde?	

4	
2 x 4 kimde?	

8 bende