

... BENDE KİMDE? (Çarpma)

Her kutu, kendinde olan cevabı üstte aradığı cevabı altta gösteriyor. Oyun baştaki soru ile başlıyor. O sorunun cevabı kimde ise onun aradığı cevaptan devam ederek sona ulaşılır. Sona kalan kutunun aradığı cevabı noktalı yere yazmalıyız.

4 x 1 kimde?

4	
10 x 2 kimde?	

15	
4 x 3 kimde?	

20	
3 x 5 kimde?	

12	
9 x 4 kimde?	

8	
7 x 4 kimde?	

28	
7 x 5 kimde?	

45	
2 x 5 kimde?	

35	
10 x 3 kimde?	

10	
4 x 2 kimde?	

9	
9 x 5 kimde?	

30	
9 x 3 kimde?	

36	
3 x 3 kimde?	

..... bende

... BENDE KİMDE? (Çarpma)

Her kutu, kendinde olan cevabı üstte aradığı cevabı altta gösteriyor. Oyun baştaki soru ile başlıyor. O sorunun cevabı kimde ise onun aradığı cevaptan devam ederek sona ulaşılır. Sona kalan kutunun aradığı cevabı noktalı yere yazmalıyız.

5 x 1 kimde?

30	
8 x 4 kimde?	

16	
6 x 5 kimde?	


8	
7 x 4 kimde?	

45	
3 x 2 kimde?	

12	
3 x 3 kimde?	

40	
5 x 2 kimde?	

5	
3 x 4 kimde?	

10	
9 x 5 kimde?	

32	
10 x 2 kimde?	

20	
8 x 5 kimde?	

9	
4 x 4 kimde?	

6	
4 x 2 kimde?	

..... bende

... BENDE KİMDE? (Çarpma)

Her kutu, kendinde olan cevabı üstte aradığı cevabı altta gösteriyor. Oyun baştaki soru ile başlıyor. O sorunun cevabı kimde ise onun aradığı cevaptan devam ederek sona ulaşılır. Sona kalan kutunun aradığı cevabı noktalı yere yazmalıyız.

4 x 1 kimde?

4	
10 x 2 kimde?	

15	
4 x 3 kimde?	

20	
3 x 5 kimde?	

12	
9 x 4 kimde?	

8	
7 x 4 kimde?	

28	
7 x 5 kimde?	

45	
2 x 5 kimde?	

35	
10 x 3 kimde?	

10	
4 x 2 kimde?	

9	
9 x 5 kimde?	

30	
9 x 3 kimde?	

36	
3 x 3 kimde?	

27 bende

... BENDE KİMDE? (Çarpma)

Her kutu, kendinde olan cevabı üstte aradığı cevabı altta gösteriyor. Oyun baştaki soru ile başlıyor. O sorunun cevabı kimde ise onun aradığı cevaptan devam ederek sona ulaşılır. Sona kalan kutunun aradığı cevabı noktalı yere yazmalıyız.

5 x 1 kimde?

30	
8 x 4 kimde?	

16	
6 x 5 kimde?	


8	
7 x 4 kimde?	

45	
3 x 2 kimde?	


12	
3 x 3 kimde?	

40	
5 x 2 kimde?	

5	
3 x 4 kimde?	

10	
9 x 5 kimde?	

32	
10 x 2 kimde?	

20	
8 x 5 kimde?	

9	
4 x 4 kimde?	

6	
4 x 2 kimde?	

28 bende