


... BENDE KİMDE? (Çarpma)

Her kutu, kendinde olan cevabı üstte aradığı cevabı altta gösteriyor. Oyun baştaki soru ile başlıyor. O sorunun cevabı kimde ise onun aradığı cevaptan devam ederek sona ulaşılır. Sona kalan kutunun aradığı cevabı noktalı yere yazmalıyız.

3 x 1 kimde?

20	
2 x 2 kimde?	

32	
10 x 5 kimde?	

8	
3 x 4 kimde?	

10	
3 x 2 kimde?	

24	
8 x 5 kimde?	

35	
8 x 4 kimde?	

18	
2 x 5 kimde?	

50	
5 x 4 kimde?	

3	
9 x 2 kimde?	

4	
4 x 2 kimde?	

40	
7 x 5 kimde?	

6	
8 x 3 kimde?	


..... bende

... BENDE KİMDE? (Çarpma)


Her kutu, kendinde olan cevabı üstte aradığı cevabı altta gösteriyor. Oyun baştaki soru ile başlıyor. O sorunun cevabı kimde ise onun aradığı cevaptan devam ederek sona ulaşılır. Sona kalan kutunun aradığı cevabı noktalı yere yazmalıyız.

10 x 4 kimde?


20	
9 x 3 kimde?	

7	
5 x 2 kimde?	

27	
10 x 5 kimde?	

32	
9 x 2 kimde?	

15	
7 x 4 kimde?	

50	
3 x 5 kimde?	

40	
10 x 2 kimde?	

30	
6 x 4 kimde?	

10	
10 x 3 kimde?	

28	
8 x 4 kimde?	

18	
2 x 2 kimde?	

4	
7 x 1 kimde?	


..... bende


... BENDE KİMDE? (Çarpma)

Her kutu, kendinde olan cevabı üstte aradığı cevabı altta gösteriyor. Oyun baştaki soru ile başlıyor. O sorunun cevabı kimde ise onun aradığı cevaptan devam ederek sona ulaşılır. Sona kalan kutunun aradığı cevabı noktalı yere yazmalıyız.

3 x 1 kimde?

20	
2 x 2 kimde?	

32	
10 x 5 kimde?	

8	
3 x 4 kimde?	

10	
3 x 2 kimde?	

24	
8 x 5 kimde?	

35	
8 x 4 kimde?	

18	
2 x 5 kimde?	

50	
5 x 4 kimde?	

3	
9 x 2 kimde?	

4	
4 x 2 kimde?	

40	
7 x 5 kimde?	

6	
8 x 3 kimde?	


12 bende

... BENDE KİMDE? (Çarpma)

Her kutu, kendinde olan cevabı üstte aradığı cevabı altta gösteriyor. Oyun baştaki soru ile başlıyor. O sorunun cevabı kimde ise onun aradığı cevaptan devam ederek sona ulaşılır. Sona kalan kutunun aradığı cevabı noktalı yere yazmalıyız.

10 x 4 kimde?


20	
9 x 3 kimde?	

7	
5 x 2 kimde?	

27	
10 x 5 kimde?	

32	
9 x 2 kimde?	

15	
7 x 4 kimde?	

50	
3 x 5 kimde?	

40	
10 x 2 kimde?	

30	
6 x 4 kimde?	

10	
10 x 3 kimde?	

28	
8 x 4 kimde?	

18	
2 x 2 kimde?	

4	
7 x 1 kimde?	

24 bende