


## ... BENDE .... KİMDE? (Çarpma)

Her kutu, kendinde olan cevabı üstte aradığı cevabı altta gösteriyor. Oyun baştaki soru ile başlıyor. O sorunun cevabı kimde ise onun aradığı cevaptan devam ederek sona ulaşılır. Sona kalan kutunun aradığı cevabı noktalı yere yazmalıyız.

6 x 2 kimde?

5	
6 x 4 kimde?	


9	
5 x 1 kimde?	

18	
9 x 5 kimde?	


16	
10 x 2 kimde?	

20	
6 x 3 kimde?	

12	
3 x 3 kimde?	

4	
10 x 4 kimde?	

40	
5 x 3 kimde?	

24	
4 x 2 kimde?	

15	
7 x 3 kimde?	

45	
2 x 2 kimde?	

8	
4 x 4 kimde?	

..... bende

## ... BENDE .... KİMDE? (Çarpma)

Her kutu, kendinde olan cevabı üstte aradığı cevabı altta gösteriyor. Oyun baştaki soru ile başlıyor. O sorunun cevabı kimde ise onun aradığı cevaptan devam ederek sona ulaşılır. Sona kalan kutunun aradığı cevabı noktalı yere yazmalıyız.

2 x 2 kimde?

40	
5 x 3 kimde?	

24	
9 x 3 kimde?	

27	
8 x 5 kimde?	

4	
2 x 4 kimde?	

21	
3 x 2 kimde?	

32	
6 x 4 kimde?	

8	
4 x 4 kimde?	

18	
8 x 4 kimde?	

15	
7 x 3 kimde?	

10	
6 x 3 kimde?	

16	
10 x 2 kimde?	


20	
10 x 1 kimde?	

..... bende

## ... BENDE .... KİMDE? (Çarpma)

Her kutu, kendinde olan cevabı üstte aradığı cevabı altta gösteriyor. Oyun baştaki soru ile başlıyor. O sorunun cevabı kimde ise onun aradığı cevaptan devam ederek sona ulaşılır. Sona kalan kutunun aradığı cevabı noktalı yere yazmalıyız.

6 x 2 kimde?

5	
6 x 4 kimde?	


9	
5 x 1 kimde?	

18	
9 x 5 kimde?	

16	
10 x 2 kimde?	

20	
6 x 3 kimde?	

12	
3 x 3 kimde?	

4	
10 x 4 kimde?	

40	
5 x 3 kimde?	

24	
4 x 2 kimde?	

15	
7 x 3 kimde?	

45	
2 x 2 kimde?	

8	
4 x 4 kimde?	

21 bende

## ... BENDE .... KİMDE? (Çarpma)

Her kutu, kendinde olan cevabı üstte aradığı cevabı altta gösteriyor. Oyun baştaki soru ile başlıyor. O sorunun cevabı kimde ise onun aradığı cevaptan devam ederek sona ulaşılır. Sona kalan kutunun aradığı cevabı noktalı yere yazmalıyız.


2 x 2 kimde?

40	
5 x 3 kimde?	

24	
9 x 3 kimde?	

27	
8 x 5 kimde?	

4	
2 x 4 kimde?	

21	
3 x 2 kimde?	

32	
6 x 4 kimde?	

8	
4 x 4 kimde?	

18	
8 x 4 kimde?	

15	
7 x 3 kimde?	

10	
6 x 3 kimde?	

16	
10 x 2 kimde?	

20	
10 x 1 kimde?	

6 bende