

... BENDE KİMDE? (Çarpma)

Her kutu, kendinde olan cevabı üstte aradığı cevabı altta gösteriyor. Oyun baştaki soru ile başlıyor. O sorunun cevabı kimde ise onun aradığı cevaptan devam ederek sona ulaşılır. Sona kalan kutunun aradığı cevabı noktalı yere yazmalıyız.


4 x 2 kimde?

12	
10 x 4 kimde?	

40	
9 x 5 kimde?	

6	
4 x 1 kimde?	

18	
7 x 5 kimde?	

28	
10 x 2 kimde?	

8	
2 x 3 kimde?	

30	
9 x 2 kimde?	

20	
8 x 4 kimde?	

10	
7 x 4 kimde?	

45	
5 x 2 kimde?	

4	
4 x 3 kimde?	

32	
10 x 3 kimde?	

..... bende

... BENDE KİMDE? (Çarpma)

Her kutu, kendinde olan cevabı üstte aradığı cevabı altta gösteriyor. Oyun baştaki soru ile başlıyor. O sorunun cevabı kimde ise onun aradığı cevaptan devam ederek sona ulaşılır. Sona kalan kutunun aradığı cevabı noktalı yere yazmalıyız.

2 x 1 kimde?

36	
7 x 4 kimde?	

10	
4 x 4 kimde?	


16	
10 x 2 kimde?	

6	
9 x 3 kimde?	

24	
2 x 2 kimde?	

28	
3 x 2 kimde?	

2	
6 x 4 kimde?	

27	
2 x 4 kimde?	

20	
6 x 3 kimde?	

18	
9 x 4 kimde?	

8	
8 x 5 kimde?	

4	
2 x 5 kimde?	

..... bende

... BENDE KİMDE? (Çarpma)

Her kutu, kendinde olan cevabı üstte aradığı cevabı altta gösteriyor. Oyun baştaki soru ile başlıyor. O sorunun cevabı kimde ise onun aradığı cevaptan devam ederek sona ulaşılır. Sona kalan kutunun aradığı cevabı noktalı yere yazmalıyız.

4 x 2 kimde?

12	
10 x 4 kimde?	

40	
9 x 5 kimde?	

6	
4 x 1 kimde?	

18	
7 x 5 kimde?	

28	
10 x 2 kimde?	

8	
2 x 3 kimde?	

30	
9 x 2 kimde?	

20	
8 x 4 kimde?	

10	
7 x 4 kimde?	

45	
5 x 2 kimde?	

4	
4 x 3 kimde?	

32	
10 x 3 kimde?	

35 bende

... BENDE KİMDE? (Çarpma)

Her kutu, kendinde olan cevabı üstte aradığı cevabı altta gösteriyor. Oyun baştaki soru ile başlıyor. O sorunun cevabı kimde ise onun aradığı cevaptan devam ederek sona ulaşılır. Sona kalan kutunun aradığı cevabı noktalı yere yazmalıyız.

2 x 1 kimde?


36	
7 x 4 kimde?	

10	
4 x 4 kimde?	

16	
10 x 2 kimde?	

6	
9 x 3 kimde?	

24	
2 x 2 kimde?	

28	
3 x 2 kimde?	

2	
6 x 4 kimde?	

27	
2 x 4 kimde?	

20	
6 x 3 kimde?	

18	
9 x 4 kimde?	

8	
8 x 5 kimde?	

4	
2 x 5 kimde?	

40 bende