


## ... BENDE .... KİMDE? (Çarpma)

Her kutu, kendinde olan cevabı üstte aradığı cevabı altta gösteriyor. Oyun baştaki soru ile başlıyor. O sorunun cevabı kimde ise onun aradığı cevaptan devam ederek sona ulaşılır. Sona kalan kutunun aradığı cevabı noktalı yere yazmalıyız.

8 x 4 kimde?

21	
8 x 5 kimde?	

20	
7 x 5 kimde?	


25	
7 x 3 kimde?	


12	
3 x 3 kimde?	

4	
4 x 3 kimde?	

32	
5 x 5 kimde?	

35	
9 x 5 kimde?	

8	
9 x 3 kimde?	

27	
6 x 3 kimde?	

40	
4 x 1 kimde?	

18	
5 x 4 kimde?	

9	
4 x 2 kimde?	

..... bende

## ... BENDE .... KİMDE? (Çarpma)

Her kutu, kendinde olan cevabı üstte aradığı cevabı altta gösteriyor. Oyun baştaki soru ile başlıyor. O sorunun cevabı kimde ise onun aradığı cevaptan devam ederek sona ulaşılır. Sona kalan kutunun aradığı cevabı noktalı yere yazmalıyız.

5 x 1 kimde?

12	
8 x 5 kimde?	

30	
8 x 4 kimde?	


8	
6 x 2 kimde?	

5	
4 x 4 kimde?	

40	
6 x 4 kimde?	

24	
10 x 3 kimde?	

32	
7 x 4 kimde?	

6	
7 x 5 kimde?	

28	
3 x 2 kimde?	

16	
7 x 2 kimde?	

20	
4 x 2 kimde?	

14	
4 x 5 kimde?	

..... bende

## ... BENDE .... KİMDE? (Çarpma)

Her kutu, kendinde olan cevabı üstte aradığı cevabı altta gösteriyor. Oyun baştaki soru ile başlıyor. O sorunun cevabı kimde ise onun aradığı cevaptan devam ederek sona ulaşılır. Sona kalan kutunun aradığı cevabı noktalı yere yazmalıyız.

8 x 4 kimde?

21	
8 x 5 kimde?	

20	
7 x 5 kimde?	


25	
7 x 3 kimde?	


12	
3 x 3 kimde?	

4	
4 x 3 kimde?	

32	
5 x 5 kimde?	

35	
9 x 5 kimde?	

8	
9 x 3 kimde?	

27	
6 x 3 kimde?	

40	
4 x 1 kimde?	

18	
5 x 4 kimde?	

9	
4 x 2 kimde?	

45 bende

## ... BENDE .... KİMDE? (Çarpma)

Her kutu, kendinde olan cevabı üstte aradığı cevabı altta gösteriyor. Oyun baştaki soru ile başlıyor. O sorunun cevabı kimde ise onun aradığı cevaptan devam ederek sona ulaşılır. Sona kalan kutunun aradığı cevabı noktalı yere yazmalıyız.

5 x 1 kimde?

12	
8 x 5 kimde?	

30	
8 x 4 kimde?	


8	
6 x 2 kimde?	

5	
4 x 4 kimde?	

40	
6 x 4 kimde?	

24	
10 x 3 kimde?	

32	
7 x 4 kimde?	

6	
7 x 5 kimde?	

28	
3 x 2 kimde?	

16	
7 x 2 kimde?	

20	
4 x 2 kimde?	

14	
4 x 5 kimde?	

35 bende