

## ... BENDE .... KİMDE? (Çarpma)


Her kutu, kendinde olan cevabı üstte aradığı cevabı altta gösteriyor. Oyun baştaki soru ile başlıyor. O sorunun cevabı kimde ise onun aradığı cevaptan devam ederek sona ulaşılır. Sona kalan kutunun aradığı cevabı noktalı yere yazmalıyız.

3 x 1 kimde?

21	
6 x 5 kimde?	

20	
3 x 5 kimde?	

8	
6 x 4 kimde?	

3	
10 x 2 kimde?	

24	
7 x 5 kimde?	

10	
4 x 2 kimde?	

6	
8 x 5 kimde?	

35	
7 x 3 kimde?	

15	
3 x 3 kimde?	

40	
2 x 5 kimde?	

9	
9 x 3 kimde?	

27	
2 x 3 kimde?	

..... bende

## ... BENDE .... KİMDE? (Çarpma)

Her kutu, kendinde olan cevabı üstte aradığı cevabı altta gösteriyor. Oyun baştaki soru ile başlıyor. O sorunun cevabı kimde ise onun aradığı cevaptan devam ederek sona ulaşılır. Sona kalan kutunun aradığı cevabı noktalı yere yazmalıyız.


9 x 3 kimde?


10	
5 x 3 kimde?	

9	
7 x 4 kimde?	

20	
3 x 3 kimde?	

16	
3 x 4 kimde?	

27	
8 x 2 kimde?	

28	
6 x 5 kimde?	

7	
4 x 2 kimde?	

40	
2 x 5 kimde?	

15	
7 x 3 kimde?	

8	
10 x 2 kimde?	

21	
7 x 1 kimde?	

12	
8 x 5 kimde?	

..... bende

## ... BENDE .... KİMDE? (Çarpma)

Her kutu, kendinde olan cevabı üstte aradığı cevabı altta gösteriyor. Oyun baştaki soru ile başlıyor. O sorunun cevabı kimde ise onun aradığı cevaptan devam ederek sona ulaşılır. Sona kalan kutunun aradığı cevabı noktalı yere yazmalıyız.


3 x 1 kimde?

21	
6 x 5 kimde?	

20	
3 x 5 kimde?	

8	
6 x 4 kimde?	

3	
10 x 2 kimde?	

24	
7 x 5 kimde?	

10	
4 x 2 kimde?	

6	
8 x 5 kimde?	

35	
7 x 3 kimde?	

15	
3 x 3 kimde?	

40	
2 x 5 kimde?	

9	
9 x 3 kimde?	

27	
2 x 3 kimde?	

30 bende

## ... BENDE .... KİMDE? (Çarpma)


Her kutu, kendinde olan cevabı üstte aradığı cevabı altta gösteriyor. Oyun baştaki soru ile başlıyor. O sorunun cevabı kimde ise onun aradığı cevaptan devam ederek sona ulaşılır. Sona kalan kutunun aradığı cevabı noktalı yere yazmalıyız.

9 x 3 kimde?


10	
5 x 3 kimde?	

9	
7 x 4 kimde?	


20	
3 x 3 kimde?	

16	
3 x 4 kimde?	


27	
8 x 2 kimde?	

28	
6 x 5 kimde?	

7	
4 x 2 kimde?	

40	
2 x 5 kimde?	

15	
7 x 3 kimde?	

8	
10 x 2 kimde?	

21	
7 x 1 kimde?	

12	
8 x 5 kimde?	

30 bende