


Sıra Sende...

Aşağıdaki alana bir resim veya kendi eğlenceli çalışmanı ekleyebilirsin.



Cevap Aratır

Bu kitapçıkta 1. sınıf seviyesinde tekrar etkinlikleri ve çeşitli bulmacalar bulunmaktadır.

Yunus Külcü

Kontrol Edenin Adı

İmzası



Adı Soyadı:


Sınıfı :

Okulu :

Fasikül 10

SUDOKU BOYAMA (Seviye 2)

Sarı, kırmızı, mavi ve yeşil renkli şekilleri her satır, sütun ve koyu renkli alanlarda aynı renk olmayacak şekilde boyayınız.



1

14

EŞİ OLMAYANI BUL (ŞİFRELİ)

Her bir kutuda eşî olan harfleri boya ve tek kalan harfleri şifre bölümüne yazarak şifreyi oluşturun.

1	2	3	4
K S L E L S M M K	T İ Ü R T İ S Ü R	U N İ K R U R N İ	O İ O İ S L L S İ
5	6	7	8
L İ İ M İ A İ L A	S A İ S İ N U N U	R İ İ Ü A A R S Ü	U İ U S A O İ O S

1	2	3	4	5	6	7	8

HIZLI OKUMA

Okuma sayısı kadar gülen yüz boyayın.



Sorun

Ona sorun.

Ona soru sorun.

Ona seksen soru sorun.

Sinan ona seksen soru sorun.

DİKKAT ETKİNLİKLERİ AYNISINI BUL

Şekillerin yandaki gibi sıralandığı 3 grubu işaretleyiniz.

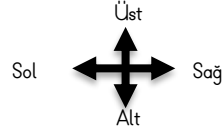
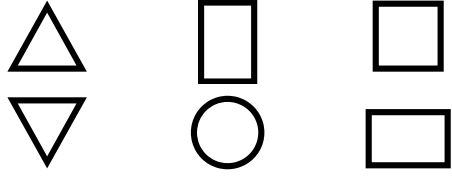


--	--	--	--

UZAMSAL İLİŞKİLER

13

İfadeleri, tablodaki şekillerin konumlarına göre tamamlayın.



△ ile □ arasında vardır.


□ şeklinin sağında vardır.

□ şeklinin solunda vardır.



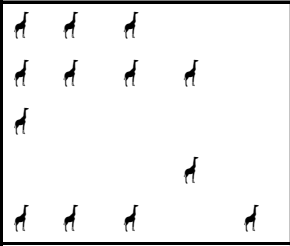
2

DİKKAT ETKİNLİKLERİ AYNISINI BUL

Şekillerin yandaki gibi sıralandığı 4 grubu işaretleyiniz.



Kutulardaki hayvanların on tanesini yuvarlak içine alın. Kutulardaki hayvan sayılarının onluk, birliklerini ve sayılarını altlarındaki tablolarda gösterin.



Onluk	Birlik
.....
.....	

Onluk	Birlik
.....
.....	

Onluk	Birlik
.....
.....	

ÖNCEKİ SONRAKİ

Aşağıda verilen sayılardan önceki ve sonraki sayıları yazın.

	11	
--	----	--

	14	
--	----	--

	6	
--	---	--

	15	
--	----	--

	10	
--	----	--

	5	
--	---	--

	18	
--	----	--

	7	
--	---	--

HIZLI OKUMA

Okuma sayısı kadar gülen yüz boyayın.



Son

Enes son

Enes o son

Enes o elma son

Enes o sarı elma son

11 4

BAĞLANTILI SAYILAR

Birbiriyle bağlantılı tabloları inceleyin ve şifre sayısını bulun.

4	6	3	2	8	7	5	1
●	◎	○	●	◎	○	○	○

●	○	○	◎	◎	○	○	●
↶	↷	↶	↷	↶	↷	↶	↷

↶ ↷ ↶ ↷

Uygun kutuları boyayarak yolu tamamlayın. (beşer ileri ritmik sayarak)


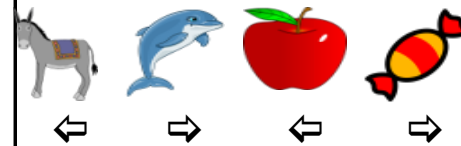



5	65	55	95	55	60	65	45	100	35
10	5	90	45	50	35	70	10	10	75
15	100	35	40	10	35	75	80	25	80
20	25	30	65	70	35	10	85	65	70
75	30	25	50	80	95	90	90	95	100




RESİMLERDEN KELİMELERE (BULMACA)


Verilen nesnenin altındaki ok işareti sol tarafı gösteriyorsa nesnenin ilk harfini, sağ tarafı gösteriyorsa nesnenin son harfini yazarak şifreli kelimeleri oluşturun.




Kutulardaki hayvanların on tanesini yuvarlak içine alın. Kutulardaki hayvan sayılarının onluk, birliklerini ve sayılarını altlarındaki tablolarda gösterin.



Onluk	Birlik
.....
.....	



Onluk	Birlik
.....
.....	



Onluk	Birlik
.....
.....	

ARADAKİ SAYI

Aşağıda verilen sayı çiftlerinin aralarındaki sayıları yazın.

9		11
---	--	----

12		14
----	--	----

3		5
---	--	---

17		19
----	--	----

14		16
----	--	----

8		10
---	--	----

11		13
----	--	----

5		7
---	--	---

EŞİ OLMAYANI BUL

Aşağıdaki her bir tabloda eş olmayan şekli bulun ve işaretleyin.

☺	☹	✎
→	✎	☒
☒	☺	→

×	◇	□
🏠	💻	💻
◇	×	□

☾	⊙	☾
⊙	☀	☀
☀	☀	☀

×	×	□
□	□	☒
□	☒	☒

😊	☀	◯
◯	⊙	☀
☀	⊙	☀

↑	↗	↘
↖	↓	↗
↘	↓	↖


☒	◇	◆
◆	□	◆
◇	☒	◆

□	×	◻
💻	◆	💻
□	×	◆


☀	☀	◯
☀	🕒	◯
🕒	☀	☀

NESNE SAYMA


Noktalı alanlara hayvan sayılarını yazalım.




.....



.....



.....



.....

SAYIYI BUL

7

Yiyeceklerin kodlarını inceleyin. Oluşturulmuş iki basamaklı sayıları yazın.

0	1	2	3	4	5	6	7	8	9



40



..



..



..



..



..



..



..

EŞİ OLMAYANI BUL

8

Aşağıdaki tabloda eş olmayan şekli bulun ve işaretleyin.

EŞİ OLMAYANI BUL (ŞİFRELİ)



Her bir kutuda eş olan harfleri boya ve tek kalan harfleri şifre bölümüne yazarak şifreyi oluşturun.

1	2	3	4
U L R S S R A L U	Ü R N N L M R Ü M	R T N I R I U U N	N A A İ İ İ K N K
5	6	7	8
N T Ü İ İ U U T N	L U S K U L N K N	R A R İ E T E A İ	M K İ U U M Ü K İ

1	2	3	4	5	6	7	8

AZ - ÇOK

Nesne sayısı çok olan tabloyu işaretleyin



Nesne sayısı az olan tabloyu işaretleyin

