

Sıra Sende...

Aşağıdaki alana bir resim veya kendi eğlenceli çalışmanı ekleyebilirsin.

Bu kitapçıkta 1. sınıf seviyesinde tekrar etkinlikleri ve çeşitli bulmacalar bulunmaktadır.

Yunus Külcü

Kontrol Edenin Adı
İmzası




Adı Soyadı:
Sınıfı :
Okulu :

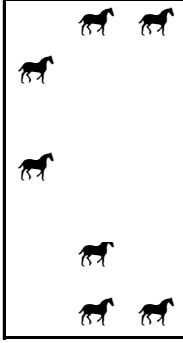
Fasikül 9

NESNE SAYMA

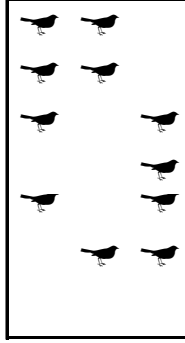
Noktalı alanlara hayvan sayılarını yazalım.




10



7



11



14

1 14

4x4 SUDOKU

Sudoku 1

1	4	3	2
3	2	4	1
4	1	2	3
2	3	1	4

Sudoku 2

4	2	3	1
1	3	4	2
2	4	1	3
3	1	2	4

Sudoku 3

2	1	4	3
4	3	2	1
3	4	1	2
1	2	3	4

Sudoku 4

1	2	3	4
3	4	2	1
4	3	1	2
2	1	4	3

Sudoku 5

1	4	3	2
3	2	4	1
2	3	1	4
4	1	2	3

Sudoku 6

2	4	1	3
3	1	2	4
1	3	4	2
4	2	3	1

BAĞLANTILI SAYILAR

Birbiriyle bağlantılı tabloları inceleyin ve şifre sayısını bulun.

186274

HIZLI OKUMA

Okuma sayısı kadar gülen yüz boyayın ve metni boş alana yazın.



Tırtıl

○ tırtıl.

○ iri tırtıl.

Anıl o iri tırtıl.


Anıl o ne iri tırtıl.

ŞEKİLLERİ SAYALIM

13 2

Aşağıdaki şekillerin kaçar tane olduğunu noktalı yere yazın.

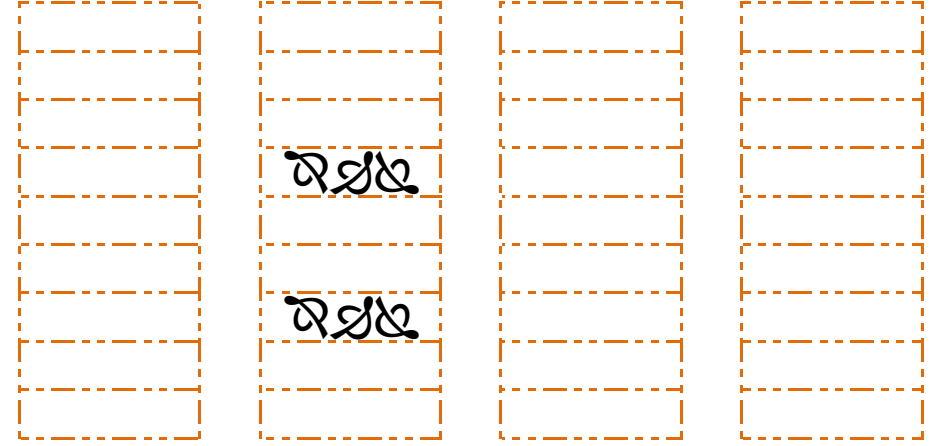
☒ = ☒ =



12

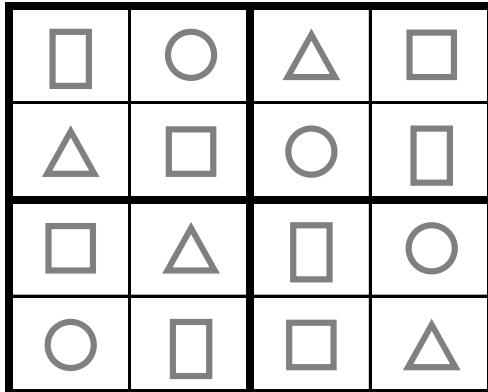
21

DİKKAT ETKİNLİKLERİ AYNISINI BUL



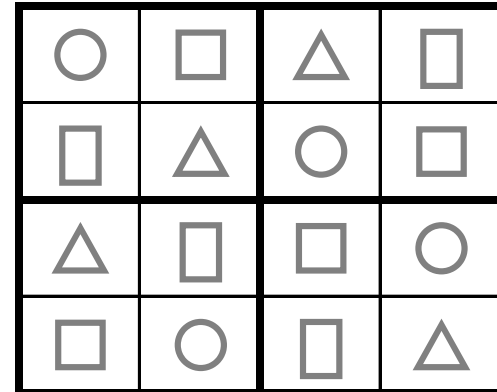
ŞEKİLLİ SUDOKULAR (Seviye 3)

Her satır ve sütunu ○, □, △, ◻ kullanarak boş kutuları doldurun.



ŞEKİLLİ SUDOKULAR (Seviye 2)

Her satır ve sütunu ○, □, △, ◻ kullanarak boş kutuları doldurun.



GİZLİ SAYIYI BUL

Tabloya 1'den 25'e kadar bütün sayılar yazılmıştır. Bir sayı iki defa yazılmıştır. Bu sayıyı bulunuz.

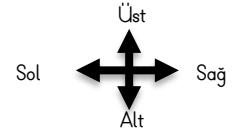
3

		2	23						9
		13							24
	15							22	
12	20	14		17	11				
19						25		21	
		8	5	4	16			1	
3	18							10	7
4					6				

UZAMSAL İLİŞKİLER SAYILAR

İfadeleri, tablodaki sayıların konumlarına göre tamamlayın.

8	7	4	9
10	6	3	12
11	2	5	1



- 6 sayısının hemen sağında vardır. **3**
- 4 sayısının sağında vardır. **9**
- 2 sayısının hemen sağında vardır. **5**
- 8 sayısının hemen altında vardır. **10**
- 10 sayısının üstünde vardır. **8**
- 3 ile 10 arasında vardır. **6**
- 1 ile 9 arasında vardır. **12**

... BENDE ... KİMDE? (Sayılar)

Her kutu, kendinde olan cevabı üstte aradığı cevabı altta gösteriyor. Oyun baştaki soru ile başlıyor. O sorunun cevabı kimde ise onun aradığı cevaptan devam ederek sona ulaşılır. Sona kalan kutunun aradığı cevabı noktalı yere yazmalıyız.

13 kimde?

12 9 kimde?	10 5 kimde?	5 6 kimde?	8 4 kimde?
11 8 kimde?	3 7 kimde?	13 12 kimde?	14 2 kimde?
7 10 kimde?	9 14 kimde?	4 3 kimde?	2 11 kimde?

6 bende

Kutuları boyayarak yolu tamamla. (onar ileri ritmik sayarak.)

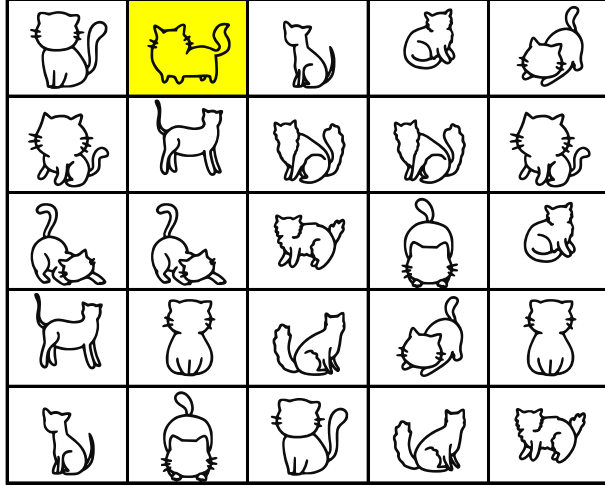


10	20	30	40	30	80
100	60	80	50	10	10
100	80	30	60	70	80
10	20	60	20	30	90
100	50	50	100	100	100



EŞİ OLMAYANI BUL

Aşağıdaki tabloda eş olmayan şekli bulun ve işaretleyin.



5

10

Uygun kutuları boyayarak yolu tamamlayın. (beşer ileri ritmik sayarak)

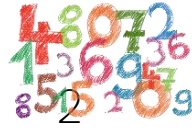


5	10	95	40	100	60	90	50	65	100
15	15	80	75	80	65	70	75	45	60
20	20	25	50	60	60	95	80	65	20
90	85	30	35	25	55	100	85	30	30
5	80	30	40	45	50	100	90	95	100



TEKRAR EDEN SAYILARI BUL (KOLAY)

Her tabloda sadece bir sayıdan iki tane vardır. O sayıları bulup işaretleyin.



12	9	1	
5 7 11	2 1 9	12 6 9	3 2 7
8 12 2	12 4 10	7 4 5	11 2 8
12 10 1	5 9 7	3 11 2	1 10 5
6 9 0	8 3 6	1 8 1	12 4 6
11	8	4	7
4 10 11	9 1 4	7 12 1	11 8 1
2 8 5	12 3 8	5 6 3	7 10 9
3 9 11	7 10 2	10 4 4	7 5 2
6 7 12	11 8 5	8 9 11	12 4 3

BAĞLANTILI SAYILAR

Birbiriyle bağlantılı tabloları inceleyin ve şifre sayısını bulun.

217385

HIZLI OKUMA

Okuma sayısı kadar gülen yüz boyayın ve metni boş alana yazın.



Tat

Keki tat.

Altı keki tat.

Akın altı keki tat.

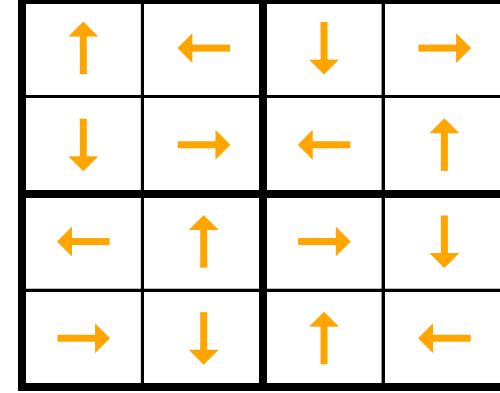
Akın altı tatlı keki tat.

9

6


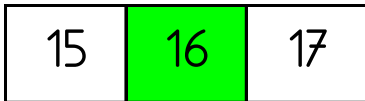

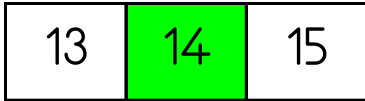


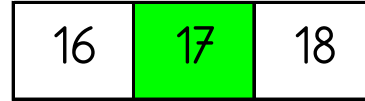

ŞEKİLLİ SUDOKULAR (Seviye 2)

Her satır ve sütunu ←, ↑, →, ↓ kullanarak boş kutuları doldurun.



ARADAKİ SAYI



Aşağıda verilen sayı çiftlerinin aralarındaki sayıları yazın.



AZ - ÇOK



Nesne sayısı az olan tabloyu

işaretleyin



Nesne sayısı çok olan tabloyu

işaretleyin



OKU YAZ

Okuma sayısı kadar gülen yüz boyayın ve metni boş alana yazın.



ATKI

Anıl o renkli atkı.

Anıl renkli atkı taktı.

Akın altı atkı al.

Akın lila atkı tak.

7

8

HANGİ SAYI (Kolay Seviye)

Her bir tabloda istenilen sayıda olan sayı kutularını **boyayın**.

Hangi sayıdan
sadece 4 tane var?

9	9	6	1
15	10	1	7
13	14	13	3
14	13	3	9
7	9	14	3

Hangi sayıdan
sadece 4 tane var?

4	1	13	14
4	14	13	13
17	2	1	1
2	2	17	14
17	5	17	4

Hangi sayıdan
sadece 4 tane var?

9	15	14	0
5	8	16	8
14	8	6	4
9	15	1	9
0	14	9	1

9

17

9

Uygun kutuları boyayarak yolu tamamlayın. (birer geri ritmik sayarak)



20	15	9	13	1	6	1	16	6	15
19	7	20	6	1	8	7	6	13	10
18	4	11	20	9	9	1	5	14	20
17	16	9	17	11	10	18	4	3	2
6	15	14	13	12	19	15	4	6	1

